

Gruppe:

Station:

### Spuren und Zeichen

Warum muß der Jäger Spuren und Zeichen des Wildes deuten können?

---

---

Hier sind die Spuren eines Hasen abgebildet.



Wodurch unterscheiden sich die Spuren?

A

---

B

---

Was ist der Grund für die unterschiedlichen Spuren?

---

Punkte:

Gruppe:

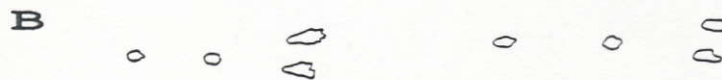
Station:

### Spuren und Zeichen

Warum muß der Jäger Spuren und Zeichen des Wildes deuten können?  
zur Identifizierung bestimmter Wildarten im Revier

---

Hier sind die Spuren eines Hasen abgebildet.



Wodurch unterscheiden sich die Spuren?

A

Abdrücke der langen Hinterläufe sind deutlich zu erkennen

---

B

Abdrücke sind undeutlich, weisen wesentlich größere Abstände auf

---

Was ist der Grund für die unterschiedlichen Spuren?

langsamere (A) und schnellere (B) Fortbewegung

---

Punkte:

Gruppe:

Station:

### Augen auf bei einer Waldwanderung

Die beiden Zeichnungen zeigen Fraßspuren von Tieren an einem Nadelbaumtrieb und einem dazugehörigen Zapfen.


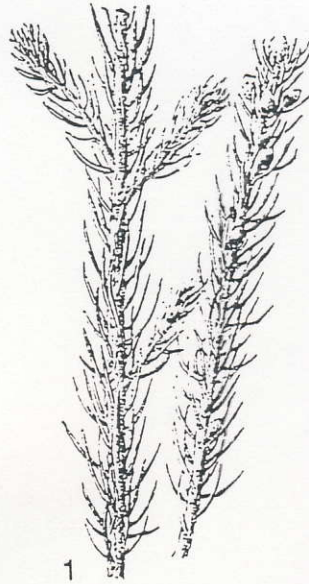
1. Von welchem Nadelbaum stammen Trieb und Zapfen?

-----

2. Wer wird als Täter vermutet?

a) am Trieb: -----

b) am Zapfen: -----



Punkte:



Gruppe:

Station:

### Augen auf bei einer Waldwanderung

Die beiden Zeichnungen zeigen Fraßspuren von Tieren an einem Nadelbaumtrieb und einem dazugehörigen Zapfen.

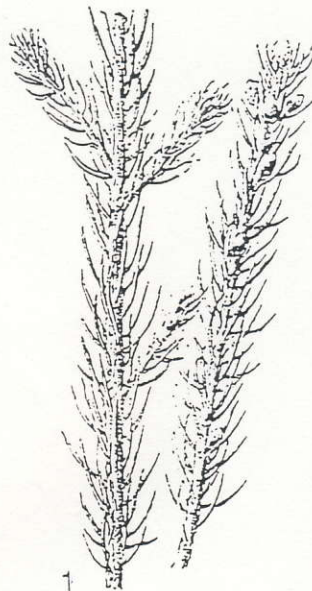
1. Von welchem Nadelbaum stammen Trieb und Zapfen?

Fichte

2. Wer wird als Täter vermutet?

a) am Trieb: Reh

b) am Zapfen: Eichhörnchen



Punkte:

Gruppe:

Station:

### Augen auf bei einer Waldwanderung

Die beiden Zeichnungen zeigen Fraßspuren von Tieren an einem Nadelbaumtrieb und einem dazugehörigen Zapfen.


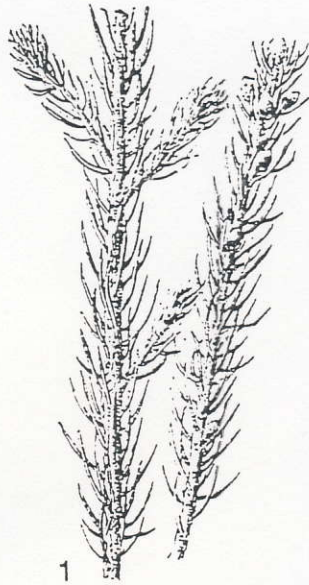
1. Von welchem Nadelbaum stammen Trieb und Zapfen?

\_\_\_\_\_

2. Wer wird als Täter vermutet?

a) am Trieb: \_\_\_\_\_

b) am Zapfen: \_\_\_\_\_



Punkte: